

Questionnaire trajet 1ère partie

Rallye GM - Seniors de Bercé Belinois
07 juillet 2023

1	Quel est le nom de l'église?	Saint Martin	10
2	Elle a été reconstruite en 1843, selon les plans de quel architecte?	Pierre-Félix Delarue	10
3	Quelle est la particularité de cet édifice ?	1 ^{er} néogothique de la Sarthe	10
4	Comment les paroissiens ont-ils participé à sa reconstruction ?	Argent, tuffeau, pierre carrière	10
5	Combien de bancs comptez-vous sur la place ? $14 \times 2 = 28$	$28 + 2 = 30$	10
6	Quel commerce tient Stéphanie ?	Auto école	10
7	Combien voyez-vous de banques ? (BPO, CA, CE, CIC, CM)	5	10
8	Combien y a-t'il d'arbres sur la place ?	15	10
9	Que fait la pierre à minuit ?	Elle tourne sur elle-même	10
10	Qui chante à midi ?	Le coq du Bois de la Lande	10
11	Combien dénombrez-vous de mégalithes ?	8	10
12	Qu'elle est la hauteur de la plus haute pierre ?	Entre 2,75 et 2,80 (3m ?)	10
13	A quoi servait ce bâtiment ?	Prison	10
14	De quand à quand ?	De 1939 à 1945	10
15	Comment s'appelle le 1 ^{er} maire de la commune ?	Louis Jousse	10
16	Si vous empruntez le chemin creux, combien ferez-vous de km <small>km ?</small>	8	10
17	Combien y a t'il de livres à la bibliothèque ?	13	10
18	Qui a offert le vitrail à Saint Hubert ?	Les Chasseurs de Bercé	10
19	En quelle année ?	1891	10
20	Quelle particularité a le cerf ?	Croix sur la tête (crucifix)	10
		TOTAL	200

Rallye GM - Seniors de Bercé Belinois

7 juillet 2023

Questionnaire trajet N° 2

21	Quelle est la contenance du massif ?	5 377 ha	10
22	Donnez le nom des 2 espèces de champignons ?	Bolet ou cèpe, girolles	10
23	Quelle était la hauteur totale du chêne Emery en 2007 ?	47,75 m	10
24	Quel âge a-t'il cette année ? En 2007 :	265 ans + 16 = 281	10
25	A quelle distance sommes-nous des chênes Boppe et Roulleau ?	13 km	10
26	Quel est le nom de la fontaine ?	de la Coudre	10
27	Quel ruisseau traverse ce site ?	Le Dinan	10
28	Quel est le nom du musée du bois de Jupilles ?	Carnuta	10
29	Comment s'appelle le sentier pédagogique ?	A l'école de la forêt	10
30	Qui a inventé le « bélier »	Montgolfier	10
31	A quoi servait-il ? Apportait l'eau sous pression	au bourg	10
32	Jusqu'en quelle année ?	1977	10
33	A quelle distance sommes-nous de St Calais	34 km	10
34	Qui donne des cours de couture ? Valérie Le Gall ou	Valane	10
35	L'église Notre Dame de la visitation est aussi dédiée à quel saint ?	Saint Denis	10
36	D'après les anciens registres, une horloge a été posée. A quelle date ?	5 décembre 1699	10
37	Comment est morte la petite Marie Vérité ?	Tuée par un loup	10
38	En 1968, son squelette a été retrouvé. A quelle occasion ?	Réfection du pavage	10
39	Dans le village, quelle est la particularité des boîtes EDF ?	Décors peints à la main	10
40	Citez 3 poètes ou chanteurs : Saint Exupéry, Brassens, Béart	Ronsard,	10
		TOTAL	<u>200</u>

N° 1 - Un peu de géographie

Inscrivez le nom du département qui correspond au numéro

(10 points par bonne réponse – temps 3 mn)

<i>N°</i>	<i>NOM</i>	<i>Points</i>
1	Ain	
11	Aude	
21	Côte d'Or	
31	Haute-Garonne	
41	Loir-et-Cher	
51	Marne	
61	Orne	
71	Saône-et-Loire	
81	Tarn	
91	Essonne	
	<u>TOTAL</u>	

Atribuez le n° correspondant à chaque poisson
(10 points par bonne réponse - 3 mn)

1 - Carpe

2 - Perche

3 - Truite

4 - Ablette

5 - Brochet

6 - Gardon


7 - Brème

8 - Tanche


9 - Goujon

10 - Barbillon


4



10




6




9




2



8




5




1



7



3



N° 3 - Peur des « petites ou grosses bêtes »

Attribuez à chaque animal le n° qui correspond
(10 points par bonne réponse – temps 3 mn)

<i>N°</i>	<i>Phobie</i>	<i>Nom de l'animal</i>	<i>N°</i>	<i>Points</i>
1	Apiphobie	Requins	7	
2	Arachnophobie	Fourmis	8	
3	Héliciphobie	Souris, rats	6	
4	Lépidophobie	Chats	9	
5	Ornithophobie	Araignées	2	
6	Musophobie	Chevaux	10	
7	Squalophobie	Escargots	3	
8	Myrmécophobie	Abeilles	1	
9	Ailurophobie	Oiseaux	5	
10	Hippophobie	Papillons	4	
		<i>Total</i>		

N° 4 - Les Jeux Olympiques d'été

*Mettez le n° correspondant à chaque ville
à côté de la bonne date*

(10 points par bonne réponse – temps 3 mn)

<i>N°</i>	<i>Ville</i>	<i>Date</i>	<i>N°</i>	<i>Points</i>
1	Athènes	2000	8	
2	Paris	1980	6	
3	Rome	2008	9	
4	Mexico	2012	10	
5	Montréal	1992	7	
6	Moscou	1900	2	
7	Barcelone	1976	5	
8	Sydney	1896	1	
9	Pékin	1960	3	
10	Londres	1968	4	
		<u>TOTAL</u>		

Jeux Passagers
20 points par bonne réponse

Devinette :

J'ai un chapeau mais pas de visage, j'ai un pied mais pas de soulier :
Je suis **un champignon**

Suite logique

Quelles sont les 2 lettres qui complètent cette suite :

U, D, T, Q, ...C., ...S... (*Un, Deux, Trois, Quatre, Cinq, Six*)

Charade :

Mon 1^{er} est un rongeur *rat*
Mon 2^{ème} est un poisson de mer *thon*
Mon 3^{ème} coule du volcan *lave*
Mon 4^{ème} est une unité de temps *heure*

Mon tout est un animal : raton laveur

Rétablir l'égalité en déplaçant 2 chiffres

1 . 10 . 7 . 22 . 14 . 4 = 9 . 3 . 12 . 6 . 13 . 11

$$58 - 14 + 12 = \underline{56}$$

$$54 + 14 - 12 = \underline{56}$$

Groupez ces couples de lettres par 3 pour former 2 noms de pays

IE IS SS EL RU RA *Israël, Russie*

ÉQUIPE n°

JEU DES PHOTOS – C'est où ?

(20 points par bonne réponse)

Dans quelles communes ont été prises ces photos ?

Photo n° 1	...Jupilles... points
Photo n° 2	...Marigné-Laillé... points
Photo n° 3	...Thoiré-sur-Dinan... points
Photo n° 4	...Marigné-Laillé... points
Photo n° 5	...Ecommoy.... points

Total : ***points***

1



2



3



4



5

